

Evaluación de desempeño

Sociales 8

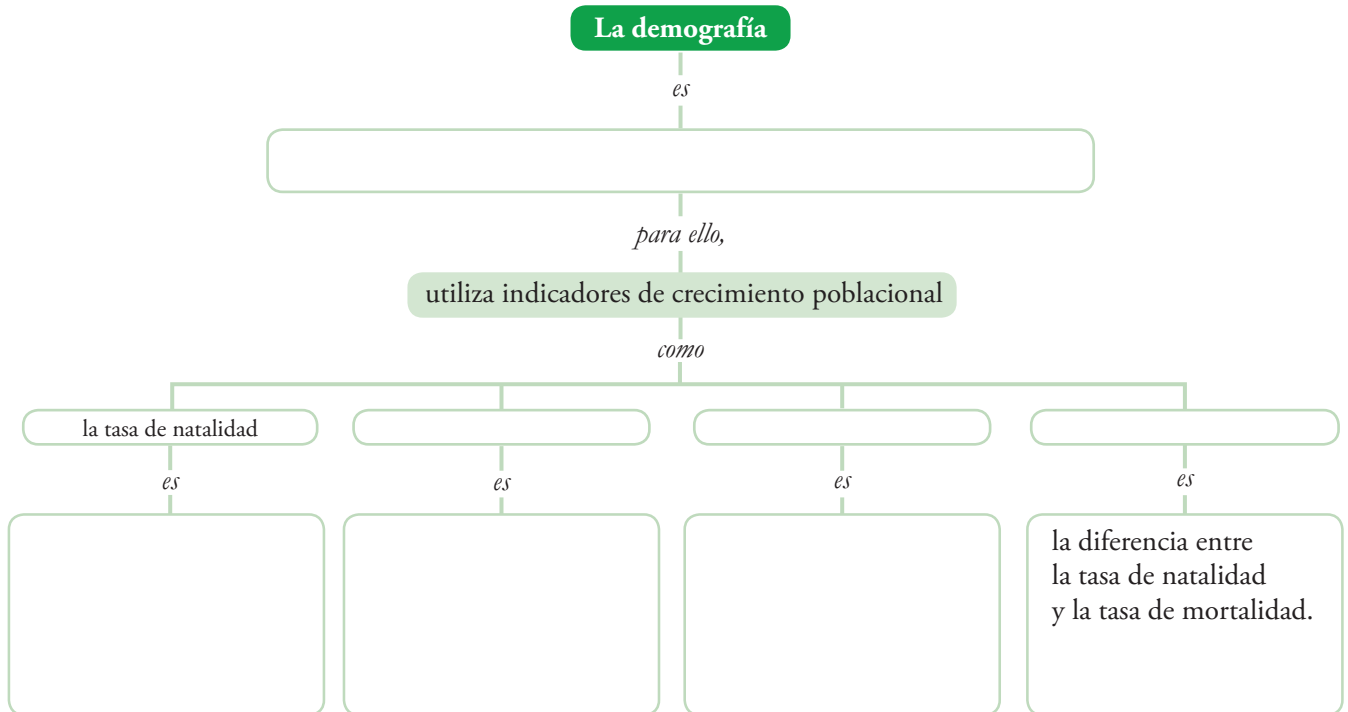
Unidad 1

Nombre: _____

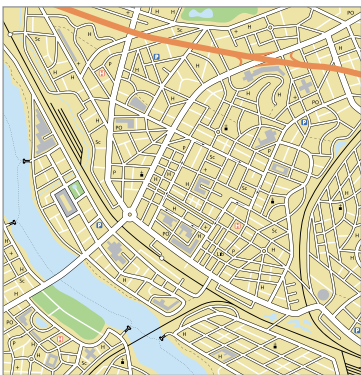
Curso: _____ Fecha: _____

INTERPRETO

1. Completa el siguiente mapa conceptual.



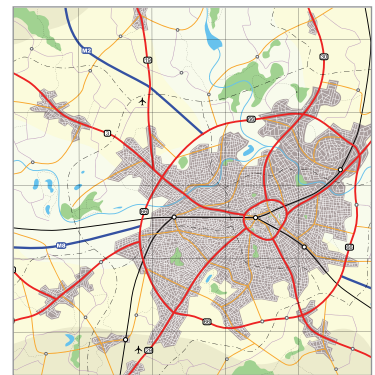
2. Observa las ilustraciones. Luego, completa con la información que corresponda.



El plano irregular... _____



El plano ortogonal... _____



El plano concéntrico... _____

3. Escribe los números en el , según corresponda.

1. Entrevistas que se aplican a grupos de habitantes representativos de una población acerca de sus condiciones de vida.

2. Registros que recogen información sobre nacimientos, defunciones, matrimonios, etc., durante un período de tiempo determinado.

Censos de población

Indicadores demográficos

3. Herramientas estadísticas que permiten expresar en cantidades algunos aspectos específicos de la población.

4. Conteos periódicos de la población de un territorio para conocer su cantidad, localización y características socio-económicas.

Encuestas demográficas

Estadísticas vitales

4. Completa la tabla. Para ello, debes tener en cuenta las principales características de los grupos étnicos de Colombia.

| Grupo étnico | Ubicación | Características |
|---------------------|-----------|-----------------|
| Indígenas | | |
| Afrocolombianos | | |
| Comunidad raizal | | |
| Pueblo rom o gitano | | |

5. Observa las fotografías. Luego, escribe algunas características de estos paisajes rurales.

Asentamiento minero



Pueblo costero



Campo



ARGUMENTO

6. Escribe V, si el enunciado es verdadero o F, si es falso. Luego, justifica tu respuesta en cada caso.

En la actualidad, la población colombiana se concentra principalmente en las áreas rurales.

La Encuesta de Hogares, realizada por el DANE, caracteriza la pobreza por medio de aspectos como el acceso a la vivienda, a servicios sanitarios y a la educación.

La Población en Edad de Trabajar está conformada por las personas de 18 años y más de las zonas urbanas y de 12 años y más en las zonas rurales.

El Índice de Necesidades Básicas Insatisfechas analiza el entorno general de vida de las familias, incluyendo aspectos como el desempleo y el trabajo infantil, entre otros.

Los departamentos de Colombia que mayor cantidad de desplazados registran son: Cundinamarca, Chocó y Valle del Cauca.

7. Completa el esquema. Para ello, escribe la razón que explica correctamente cada afirmación.

Afirmación

Razón

En la época Antigua hasta el siglo XVIII se produjo un equilibrio demográfico...

A finales del siglo XVIII, la mortalidad infantil disminuyó...

El espacio rural y el urbano se requieren mutuamente para funcionar...



África y algunas regiones de Asia y Latinoamérica son áreas de expulsión...

Las condiciones de vida de la población rural son más precarias que la población urbana...

8. Explica, por medio de un ejemplo, el significado de los siguientes términos.

A. Emigración: _____

 _____.

B. Desplazamiento forzoso: _____

 _____.

C. Inmigración: _____

 _____.

9. Observa las fotografías. Luego, explica algunas consecuencias de las migraciones en Colombia.





10. Lee el siguiente texto. Luego, realiza las actividades.

Las nacionalidades diferentes a la colombiana que mayor movimiento de ingreso al país tuvieron durante el mes de marzo de 2012 fueron: la estadounidense con el 19,5% (27.312), venezolana 12,6% (17.571), argentina 7,4% (10.327), ecuatoriana 6,6% (9.178), peruana 5,7% (7.970), española 5,5% (7.646) y mexicana 4,7% (6.604). Las demás nacionalidades como la brasilera, chilena, canadiense, alemana, francesa e italiana, entre otras, sumaron un total de 38,0% (53.138).

Boletín migratorio, Marzo de 2012, Unidad Administrativa Especial Migración Colombia.

- Elabora, en una hoja, un gráfico que represente la información que se presenta en el texto anterior.
- Imagina que eres un periodista y debes escribir un artículo sobre el flujo de viajeros en Colombia. Teniendo en cuenta la lectura anterior, redacta tu texto. No olvides explicar algunos efectos de este fenómeno sobre la economía y la cultura colombiana.